

Nom et prénom :



Classe :

Groupe :

Maths et égalités 6ème

<https://clg-pasteur-longjumeau.ac-versailles.fr/-Labo-de-Mathematiques->



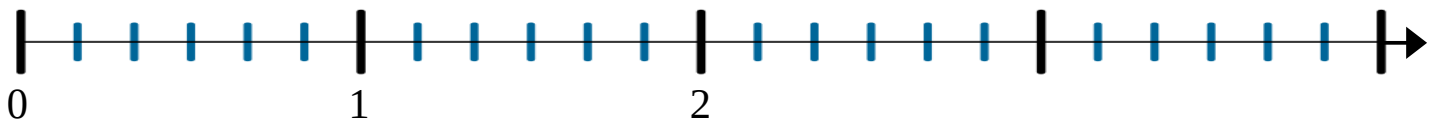
Objectif : Recherche sur une célèbre mathématicienne

1. Relier les nombres égaux :

- | | |
|-------------------|---------------------|
| 0,5 • | • $1 + \frac{1}{6}$ |
| $\frac{15}{10}$ • | • 3 |
| 0 • | • $\frac{4}{6}$ |
| $\frac{13}{6}$ • | • $2 + \frac{1}{6}$ |
| $\frac{18}{6}$ • | • $\frac{1}{2}$ |
| $\frac{7}{6}$ • | • 1,5 |
| $\frac{2}{3}$ • | • $\frac{0}{2026}$ |

2. Placer les points suivants sur la demi-droite graduée ci-dessous :

$E(0,5)$; $A(\frac{15}{10})$; $G(0)$; $I(\frac{13}{6})$; $N(\frac{18}{6})$; $M(\frac{7}{6})$; $R(\frac{2}{3})$




3. Lire sur la demi-droite graduée le nom d'une célèbre mathématicienne française.

.....

4. Rédiger quelques lignes sur la vie de cette célèbre mathématicienne (date et lieu de naissance, nationalité, découvertes, sources...).

Recherche sur Internet

.....
.....
.....
.....
.....
.....
.....
.....



Nom et prénom :



Classe :

Groupe :

Maths et égalités 5ème

<https://clg-pasteur-longjumeau.ac-versailles.fr/-Labo-de-Mathematiques->



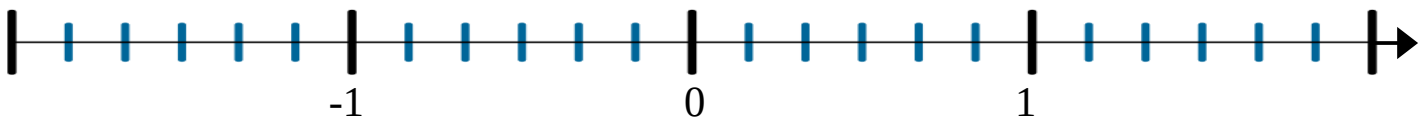
Objectif : Recherche sur une célèbre mathématicienne

1. Relier les nombres égaux :

- | | |
|--------------------|----------------------|
| $\frac{12}{6}$ • | • $1 + \frac{1}{6}$ |
| -0,5 • | • 2 |
| $-\frac{15}{10}$ • | • $\frac{4}{6}$ |
| $-\frac{7}{6}$ • | • $-1 - \frac{1}{6}$ |
| 0 • | • $-\frac{1}{2}$ |
| $\frac{2}{3}$ • | • -1,5 |
| $\frac{7}{6}$ • | • $\frac{0}{2026}$ |

2. Placer les points suivants sur la droite graduée ci-dessous :

$R(\frac{12}{6})$; $E_1(-0,5)$; $N(-\frac{15}{10})$; $O(-\frac{7}{6})$; $T(0)$; $H(\frac{2}{3})$; $E_2(\frac{7}{6})$



3. Lire sur la droite graduée le nom d'une célèbre mathématicienne.

.....

4. Rédiger quelques lignes sur la vie de cette célèbre mathématicienne (date et lieu de naissance, nationalité, découvertes, sources...).
Recherche sur Internet

.....
.....
.....
.....
.....
.....
.....

